

Werkboekje

Klokkijken



Alles door elkaar

Hoe laat is het?

























Hoe laat is het?



Hoe laat is het?



Hoe laat is het?



























Hoe laat is het?



Hoe laat is het?



Hoe laat is het?



Hoe laat is het?


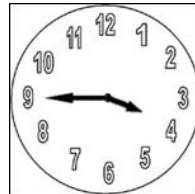


Klokken


Op deze bladzijde staan verschillende klokken. Schrijf op hoeveel tijd er tussen de twee klokken zit.




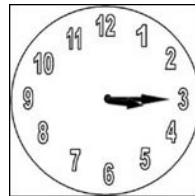
.....uur enmin...




.....uur enmin.



.....uur enmin...




.....uur enmin.

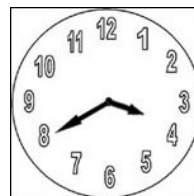
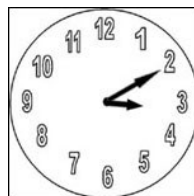


.....uur enmin...

.....uur enmin.



.....uur enmin...



.....uur enmin.

Vul in

Voorbeeld:

78 minuten is 1x rond (60 minuten) en nog 18 minuten

73 minuten is Keer rond en nog minuten

97 minuten is Keer rond en nog minuten

113 minuten is keer rond en nog minuten

122 minuten is keer rond en nog minuten

136 minuten is keer rond en nog minuten

2. 69 minuten is keer rond en nog minuten
 214 minuten is keer rond en nog minuten
 116 minuten is keer rond en nog minuten
 83 minuten is keer rond en nog minuten
 123 minuten is keer rond en nog minuten

3. 36 minuten is keer rond en nog minuten
 169 minuten is keer rond en nog minuten
 191 minuten is keer rond en nog minuten
 185 minuten is keer rond en nog minuten
 67 minuten is keer rond en nog minuten

4. 111 minuten is keer rond en nog minuten
 88 minuten is keer rond en nog minuten
 62 minuten is keer rond en nog minuten
 134 minuten is keer rond en nog minuten
 161 minuten is keer rond en nog minuten

5. 36 minuten is keer rond en nog minuten
 146 minuten is keer rond en nog minuten
 234 minuten is keer rond en nog minuten
 128 minuten is keer rond en nog minuten
 134 minuten is keer rond en nog minuten

6. 167 minuten is keer rond en nog minuten
 171 minuten is keer rond en nog minuten
 77 minuten is keer rond en nog minuten
 129 minuten is keer rond en nog minuten
 213 minuten is keer rond en nog minuten

1. Schrijf de volgende tijden op dezelfde manier als het voorbeeld.

Voorbeeld: 78 minuten = 1:18 (1 uur en 18 min)

88 minuten =
92 minuten =
118 minuten =
185 minuten =
136 minuten =

2. 73 minuten =
97 minuten =
113 minuten =
122 minuten =
136 minuten =

3. 69 minuten =
214 minuten =
116 minuten =
83 minuten =
123 minuten =

4. 36 minuten =
169 minuten =
191 minuten =
185 minuten =
67 minuten =

5. 111 minuten =
88 minuten =
62 minuten =
134 minuten =
161 minuten =

6. 36 minuten =
146 minuten =
234 minuten =
128 minuten =
134 minuten =

1. De meeste mensen zeggen niet dat de reistijd **2 uur en 43 minuten** is.

Ze ronden de tijd af en zeggen dat de reistijd 2 uur en 3 kwartier is. Probeer dit met de volgende tijden eens.

89 minuten =
124 minuten =
192 minuten =
119 minuten =
146 minuten =

2. 88 minuten =
92 minuten =
118 minuten =
185 minuten =
136 minuten =

3. 73 minuten =
97 minuten =
113 minuten =
122 minuten =
136 minuten =

4. 69 minuten =
214 minuten =
116 minuten =
83 minuten =
123 minuten =

5. 36 minuten =
169 minuten =
191 minuten =
185 minuten =
67 minuten =

6. 111 minuten =
88 minuten =
62 minuten =
134 minuten =
161 minuten =